



## امتحان هادة: الدراسات الاجتماعية الوحدة الرابعة

(استخدامات المياه والأنشطة المرتبطة بها، مشكلات المياه، موارد المياه في سلطنة عمان)

للسف: الثامن  
للعام الدراسي 1444هـ - 2023/2022م  
الفصل الدراسي الثاني

- عدد صفحات أسئلة الامتحان: ( ) صفحات.
- الإجابة في الدفتر نفسه .

اسم الطالب
------------


السؤال	الدرجة		التوقيع بالاسم	
	بالأرقام	بالحروف	المصحح الأول	المصحح الثاني
1				
2				
3				
4				
5				
المجموع			جوهه	مراجعة الجوه

(1)

**الهادة: الدراسات الاجتماعية الصف: الثامن – الفصل الدراسي الثاني  
العام الدراسي 2023/2022م**

**أجب عن جميع الأسئلة الآتية**

**السؤال الأول: ضع دائرة حول رمز الإجابة الصحيحة لكل مفردة من المفردات الآتية:**

1- النشاط الذي يستهلك أكثر من النسبة التي يشير إليها الشكل البياني (  ) :  
أ- الصناعة      ب- الزراعة      ج- المنازل      د- النقل

2- السبب وراء محدودية استغلال المعادن التي توجد في البحار والمحيطات:  
أ- التكلفة العالية      ب- ملوحة المياه      ج- المد والجزر      د- حركة الأمواج  
3- عدد الأطنان من الحديد والصلب التي تنتج عند استخدام 144000 لتر من الماء:  
أ- طن واحد      ب- طن ونصف      ج- 2 طن      د- 3 طن



4- اسم السد المائي الذي يستخدم لتوليد الطاقة في الدولة المشار إليها بالرمز (س):  
أ- الكفرة      ب- النهضة      ج- الروافعة      د- العالي

5- الطريق البحري الذي يقع شمال قارة أمريكا الجنوبية:  
أ- قناة بنما      ب- الرجاء الصالح      ج- مضيق ماجلان      د- جنوب الأطلسي



6- الأرقام التي تحدد موقع المناطق التي تعاني من عجز مائي كبير في قارة أفريقيا:  
أ- 1 و 3      ب- 1 و 4      ج- 2 و 3      د- 3 و 4

7- العناصر التي تتكون منها مياه الأمطار الحمضية:

أ- أكاسيد الكبريت والنيتروجين      ب- أكاسيد الصوديوم والزنابق  
ج- نترات الألمنيوم والصوديوم      د- أحماض النيتريت والكربونيك

8- القارة التي ستعاني 25 دولة فيها من خطر العجز المائي بحلول عام 2025م حسب إحصاءات الأمم المتحدة:  
أ- آسيا      ب- أفريقيا      ج- أوروبا      د- استراليا

9- من الأمراض المنتشرة نتيجة تلوث المياه:

أ- الاسهال والبلهارسيا      ب- السكري والإسهال      ج- السكري والبلهارسيا      د- السرطان والانفلونزا

(2)

**الهادة: الدراسات الاجتماعية الصف: الثامن – الفصل الدراسي الثاني**  
**العام الدراسي 2023/2022م**

**تابع السؤال الأول:**

10- القارتان اللتان تقل فيهما نسبة العجز المائي مقارنة بقارات العالم الأخرى:

أ- آسيا وأفريقيا ب- إفريقيا وأستراليا ج- أمريكا الجنوبية وأوروبا د- آسيا وأستراليا

11- الرقم الذي يشير إلى الولاية العمانية التي

يقع فيها وادي الحوقين وفلج الميسر:



د- 4

ج- 3

ب- 2

أ- 1

12- العامان الميلاديان لافتتاح محطتي تحلية المياه (الغبرة – بركاء)

1977	الغبرة
2004	بركاء

د-

1976	الغبرة
2003	بركاء

ج-

1975	الغبرة
2002	بركاء

ب-

1974	الغبرة
2001	بركاء

أ-

**السؤال الثاني:**

1- أمامك رسم لسد مائي، ادرسه جيدا ثم أجب:

أ- أكمل الفراغات التي تدل عليه الأسهم.

ب- اكتب أهمية أخرى للسد.



2- رتب أنواع الأفلاج في عمان من الأقل نسبة إلى الأعلى.

3	2	1

(3)

**الهادقة: الدراسات الاجتماعية الصف: الثامن – الفصل الدراسي الثاني**  
**العام الدراسي 2023/2022م**

**تابع السؤال الثاني:**



3- أمامك صورة لإحدى المشاريع الهامة في مجال المياه

ادرسها جيدا، ثم أجب عما يأتي:

أ- ما اسم المشروع المائي؟

ب- ما الهدف من إنشاء هذا المشروع؟

.....

ج- كم عدد المنشآت من هذا النوع في سلطنة عمان؟

**السؤال الثالث:**

1- يعد من الأنشطة التي ارتبطت باستغلال الإنسان للمياه في النقل والتي تشكل مياها طرقا مهمة للمواصلات في

داخل القارات، في ضوء ذلك أجب عما يأتي:

أ- ما نوع النقل الذي تشير إليه العبارة؟

ب- دلل على أهمية هذا النوع من النقل.

.....

2- ادرس الجدول التالي واكتب نوع مشكلات المياه التي تدل عليها العبارات:

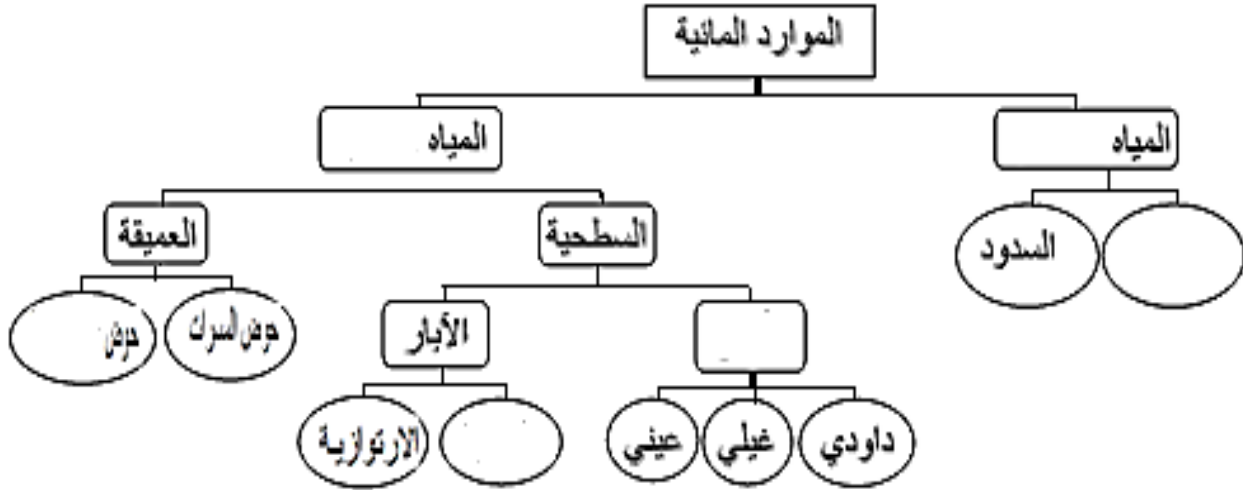
انخفاض منسوب المياه العذبة	الاستغلال المفرط للمياه	احداث تغييرات في لون الماء	العبارات
لتحل محلها المياه المالحة في	الجوفية مما يؤدي إلى	أو طعمه أو رائحته مما يؤثر	
بعض المناطق الساحلية	انخفاض منسوب المياه العذبة	على الأحياء المائية	
			نوع المشكلة

(4)

الهامة: الدراسات الاجتماعية الصف: الثامن – الفصل الدراسي الثاني  
العام الدراسي 2023/2022م

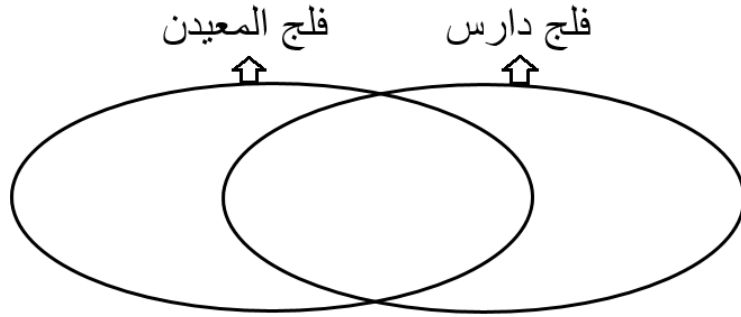
تابع السؤال الثالث:

3- ادرس مخطط الموارد المائية، ثم اكتب الإجابة في الفراغ المناسب:



السؤال الرابع:

1- اكتب على شكل فن وجهها واحدا للشبه والاختلاف بين فلج دارس وفلج المعيدن:



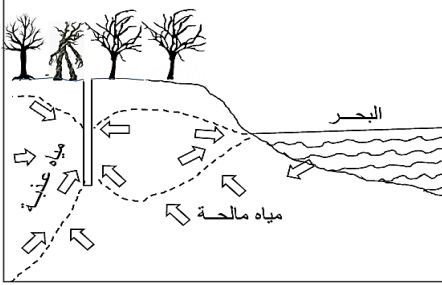
2- عرف ما يأتي:

- أ- الفلج: .....
- ب- السدود: .....
- ج- المياه الجوفية العميقة: .....

(5)

**الهامة: الدراسات الاجتماعية الصف: الثامن – الفصل الدراسي الثاني  
العام الدراسي 2023/2022م**

**السؤال الخامس:**



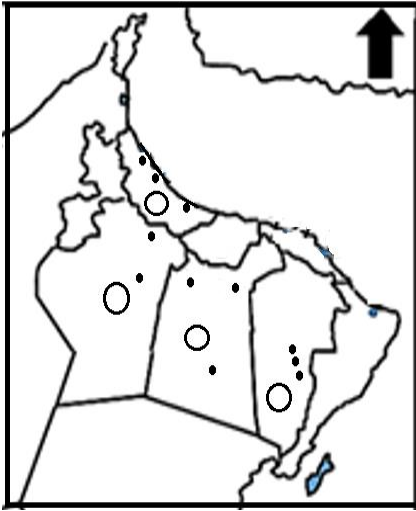
1- ادرس المشكلة التي يوضحها الشكل وأجب عن الأسئلة:

أ- ما المشكلة المائية التي يوضحها الشكل؟

ب- اعط مثالا على موقع تحدث فيه هذه المشكلة.

ج- حدد اثنتين من نتائج المشكلة في ضوء ما ورد في الشكل.

الإجابة:



2- أمامك الجزء الشمالي من خريطة سلطنة عمان،

ادرس الخريطة جيدا ثم أجب عن الأسئلة الآتية:

أ- ظلل الدائرتين اللتين تدلان على موقع الأحواض المائية:

(حوض رمال الشرقية – حوض المسرات)

ب- اكتب أسم ولاية واحدة يمدّها كل حوض بالمياه

على الخريطة.

ج- علل: تحويل مناطق الأحواض التي قمت بتظليل موقعها

على الخريطة إلى مناطق محمية بحكم القانون.

**انتهت الأسئلة مع الدعاء للجميع بالتوفيق والنجاح.**