

الاسم العائلي: ..... الاسم الشخصي: .....

تاريخ اليوم: .....

1 الفرض

1 الأسدوس



## الأنشطة العددية:

1 أنجز:

4ن

$$\begin{array}{r} 206 \\ \times 3 \\ \hline \end{array}$$

$$\begin{array}{r} 823 \\ - 412 \\ \hline \end{array}$$

$$\begin{array}{r} 536 \\ + 281 \\ \hline \end{array}$$

$$\begin{array}{r} \dots 3 \\ \times \dots \\ \hline 486 \end{array}$$

2 أفك:

1ن

$$961 = \dots + \dots + \dots$$

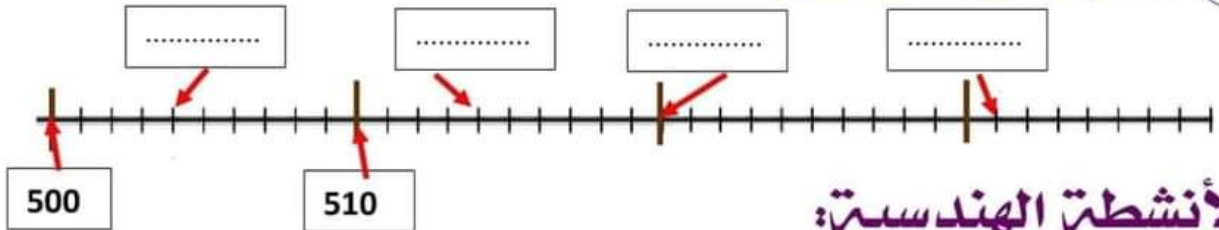
1ن

3 أكتب العدد بالأرقام:

خمس مئة وخمسة: .....

4 أملأ البطاقة بالعدد المناسب:


2ن



## الأنشطة الهندسية:

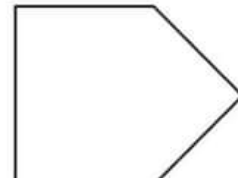
5 أضع علامة تحت المستقيمين المتعامدين:

1ن



1ن

6 ألون المستقيمين المتوازيين في كل شكل:



~~~~~

10